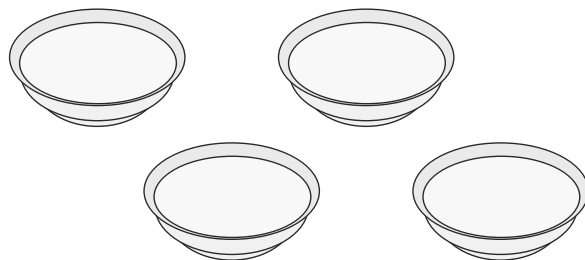




桐朋小学校過去類似問題


■数量

みかんが16個あります。4枚のお皿に同じ数になるよう分けてみましょう。



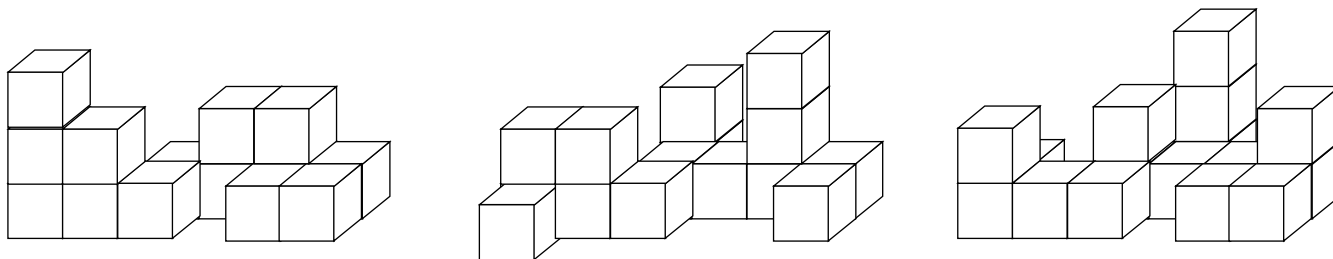
■長さ比べ

鉛筆が5本あります。この中で1番長いものはどれでしょうか。また、3番目に長いのはどれでしょうか。



■積み木構成

下の形と同じものを作ってみましょう。



■積み木構成

コップに水が入っています。この中で水の量が一番多いものはどれですか。また、2番目に多いものはどれですか。

