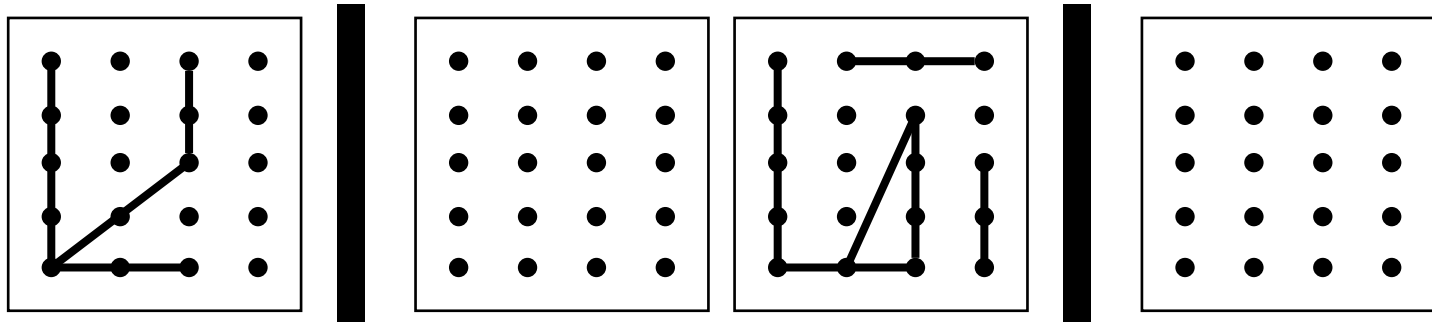


# 森村学園初等部過去類似問題

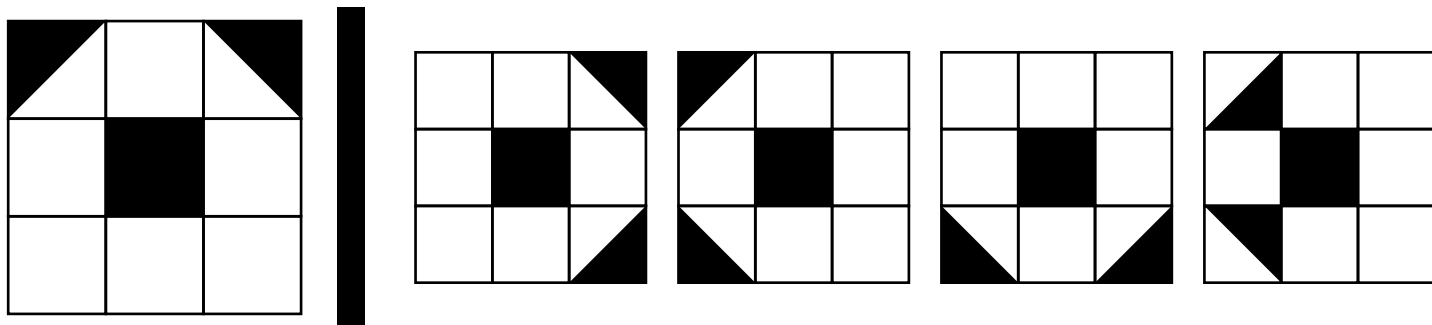
## ■ 図形

左のお手本を鏡に映したとき、どう見えるか考えてかきましょう。点と点はしっかりとつなげましょう。



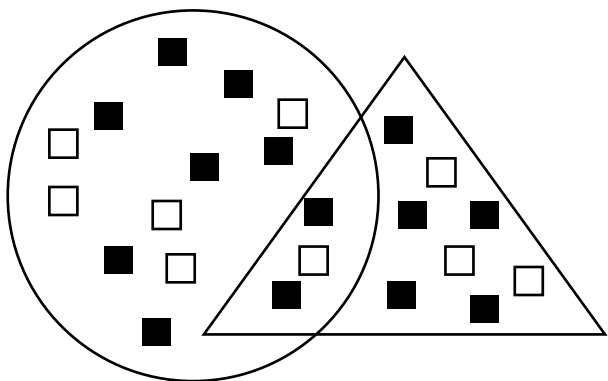
## ■ 図形

左のお手本を回転させた時、できないものを見つけて○を付けましょう。



## ■ 数量

- ①○の中の■はいくつありますか。その数だけ○をかきましょう。  
 ②△の中の□と■を合わせるといくつありますか。その数だけ○をかきましょう。



①	
②	

## ■ 言語

下の絵を、しりとりでつなげた時、最後になるものに○をつけましょう。

