












D-1-4

大きい葉っぱは小さい葉っぱ3枚と交換できます。
 にんじんは小さい葉っぱ2枚で買うことができます。
 トマトは大きい葉っぱ1枚と小さい葉っぱ1枚で買うことができます。
 かぼちゃは大きい葉っぱ2枚で買うことができます。






 ----- 	 ----- 	 ----- 
---	---	--

(1) 上の約束のとき、トマトとかぼちゃは小さい葉っぱ何枚で買うことができますか。その数だけ四角の中に○をかきましょう。

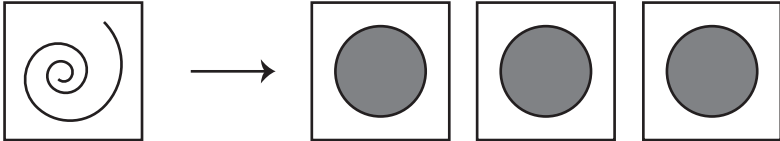
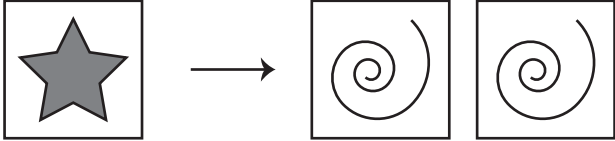
	
	

(2) 上の約束で買い物します。下の組み合わせのうち、小さい葉っぱを一番多く使うのはどの組み合わせのときですか。その絵に○をつけましょう。

		
---	---	--

なまえ

うずまきのシールは丸のシール3枚と交換することができます。 星のシールはうずまきのシール2枚と交換することができます。

(3) 上の約束のとき、星のシール1枚は丸のシール何枚と交換することができますか。その数だけ四角の中に○をかきましょう。

	
---	--

(4) 上の約束のとき、星のシール1枚とうずまきのシール1枚は丸のシール何枚と交換することができますか。その数だけ四角の中に○をかきましょう。